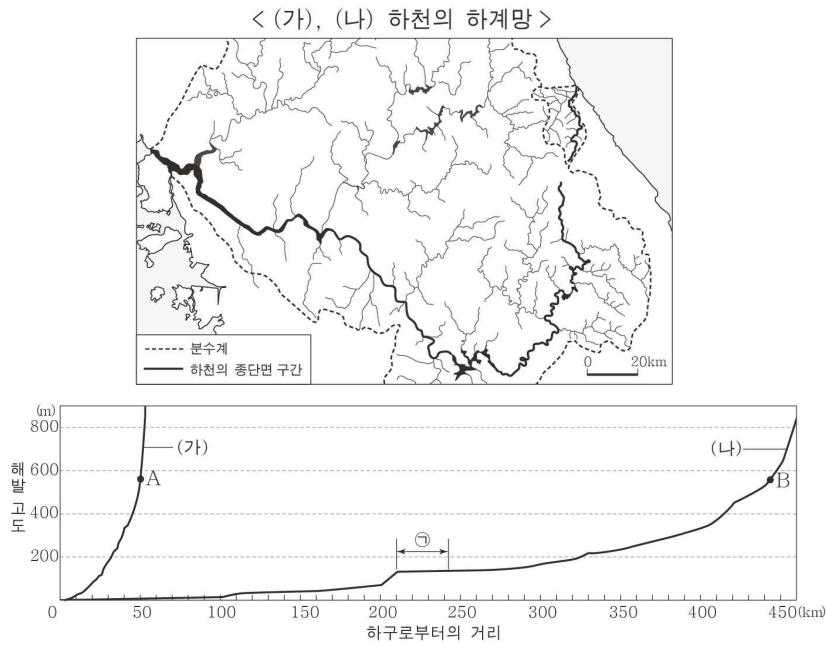


제 4 교시

# 사회탐구 영역(한국 지리)

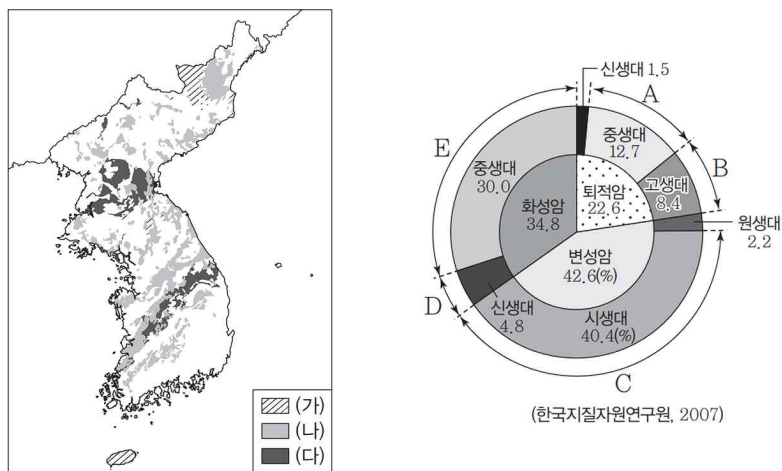
|    |       |
|----|-------|
| 성명 | 수험 번호 |
|----|-------|

1. 자료는 지도에 표시된 (가), (나) 하천의 구간별 하천 수면 높이를 나타낸 것이다. 이에 대한 설명으로 옳지 않은 것은?



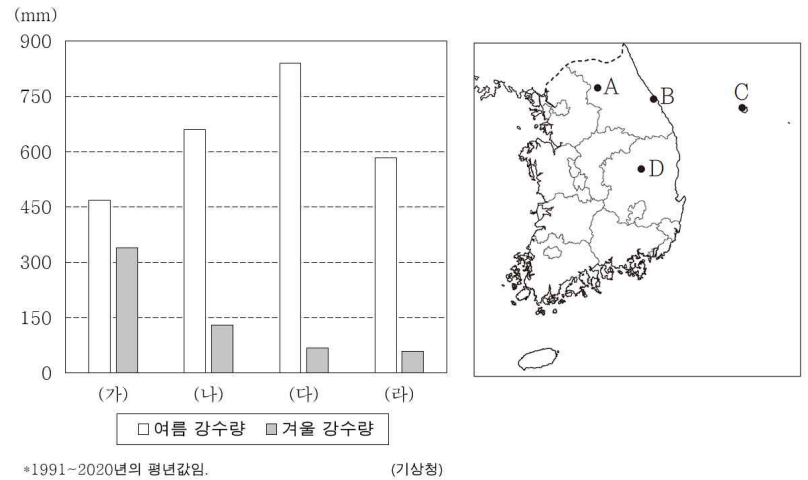
- ① (가)는 동해로, (나)는 황해로 유입된다.
- ② A 지점은 B 지점보다 퇴적 물질의 평균 입자 크기가 크다.
- ③ ㉠ 구간에서는 수력 발전이 이루어진다.
- ④ (가)는 (나)보다 하천 하구 부근의 하상계수가 크다.
- ⑤ (가)와 (나) 사이의 분수계는 1차 산맥의 일부이다.

2. 지도는 한반도의 암석 분포를 나타낸 것이다. (가)~(다)에 해당하는 암석을 A~E 중에서 고른 것은?



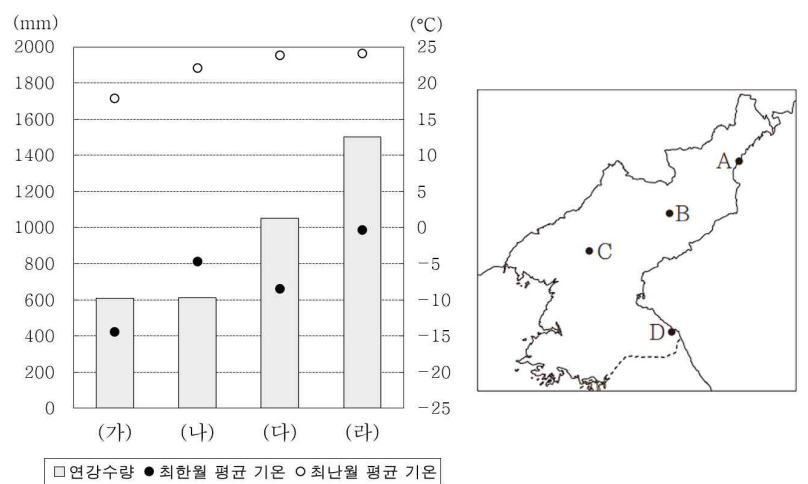
- |   |     |     |     |
|---|-----|-----|-----|
|   | (가) | (나) | (다) |
| ① | A   | B   | C   |
| ② | B   | A   | C   |
| ③ | E   | A   | B   |
| ④ | D   | E   | A   |
| ⑤ | D   | E   | B   |

3. 그래프는 지도에 표시된 네 지역의 기후를 나타낸 것이다. (가)~(라)의 기후를 A~D 중에서 고른 것은? [3점]



- |   |     |     |     |     |
|---|-----|-----|-----|-----|
|   | (가) | (나) | (다) | (라) |
| ① | B   | A   | D   | C   |
| ② | B   | D   | C   | A   |
| ③ | C   | A   | B   | D   |
| ④ | C   | B   | A   | D   |
| ⑤ | A   | D   | C   | B   |

4. 그래프는 지도에 표시된 네 지역의 기후를 나타낸 것이다. A~D의 기후를 (가)~(라) 중에서 고른 것은? [3점]



- |   |     |     |     |     |
|---|-----|-----|-----|-----|
|   | A   | B   | C   | D   |
| ① | (가) | (나) | (다) | (라) |
| ② | (가) | (다) | (나) | (라) |
| ③ | (나) | (가) | (다) | (라) |
| ④ | (나) | (가) | (라) | (다) |
| ⑤ | (나) | (라) | (가) | (다) |